

家长签字:


教师评语:


7 找规律


## 第7单元检测卷


(时间:45分钟 满分:100分)

一、接着画什么?请你圈一圈。(每空1分,共4分)

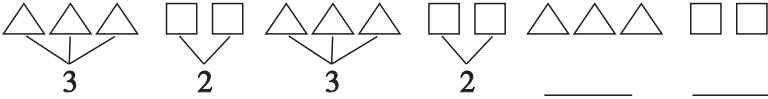
1.  \_\_\_\_\_


2.  \_\_\_\_\_


3.  \_\_\_\_\_

4.  \_\_\_\_\_


二、找规律填数。(每空1分,共7分)


1.  \_\_\_\_\_


2.  \_\_\_\_\_

3.  \_\_\_\_\_

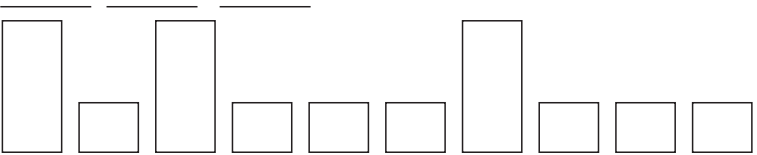
三、找规律,接着画。(每空1分,共21分)

1.  \_\_\_\_\_

2.  \_\_\_\_\_

3.  \_\_\_\_\_

4.  \_\_\_\_\_

5.  \_\_\_\_\_


四、找规律填数。(每空1分,共19分)

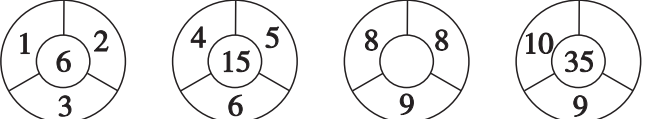
1. 1 3 5 7 9 \_\_\_\_\_

2. 4 8 12 \_\_\_\_\_ 28 \_\_\_\_\_

3. 80 75 70 \_\_\_\_\_ 55 \_\_\_\_\_

4. 2 5 8 11 \_\_\_\_\_ 20 \_\_\_\_\_

5. 

6. 

五、做一做。(共44分)

1. (8分)按规律填数,再计算。

$$8+8+8=$$

$$24-8-8-8=$$

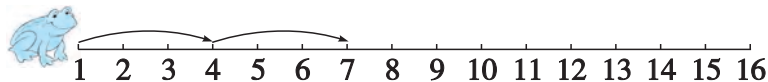
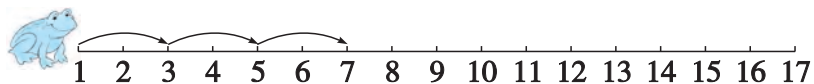
$$10+10+10=$$

$$30-10-10-10=$$

$$\square+\square+\square=$$

$$60-\square-\square-\square=$$

2. (8分) 按规律接着画。



3. (8分) 选一选, 填序号。

(1) 下面( )的规律与其他几行不同。

- ①
- ②
- ③
- ④

(2) 下面( )的规律与其他几行不同。

- ① 1 3 5 7 9 11 13 15
- ② 30 32 34 36 38 40 42
- ③ 5 10 15 20 25 30 35 40
- ④ 17 19 21 23 25 27 29 31

4. (8分) 下面各题中都有一个数不符合规律, 把它圈起来并改正。

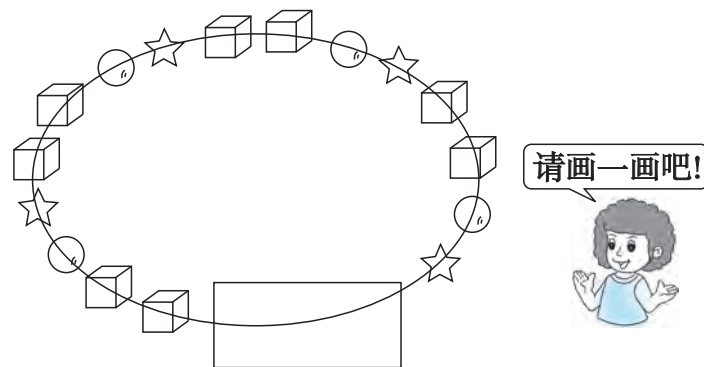
(1) 1 4 7 10 15 16 19

(2) 11 22 33 44 56 66 77

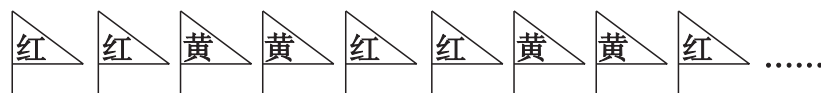
(3) 2 6 10 14 20 22 26

(4) 6 10 15 20 25 30 35

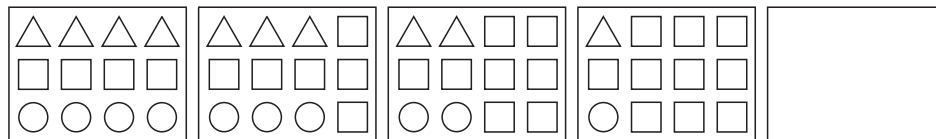
5. (6分) 小敏的手链缺了4颗珠子, 是哪4颗?



6. (6分) 你知道第19面是什么颜色的吗?



六、试一试, 你会接着往下画吗? (共5分)



家长签字:


教师评语:


7 找规律


## 第7单元检测卷


(时间:45分钟 满分:100分)

一、接着画什么? 请你圈一圈。(每空1分,共4分)

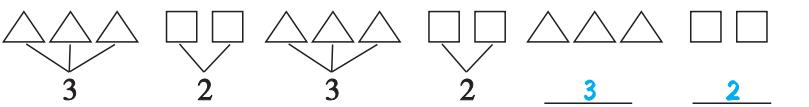
1. 


2. 


3. 

4. 


二、找规律填数。(每空1分,共7分)


1. 


2. 

3. 

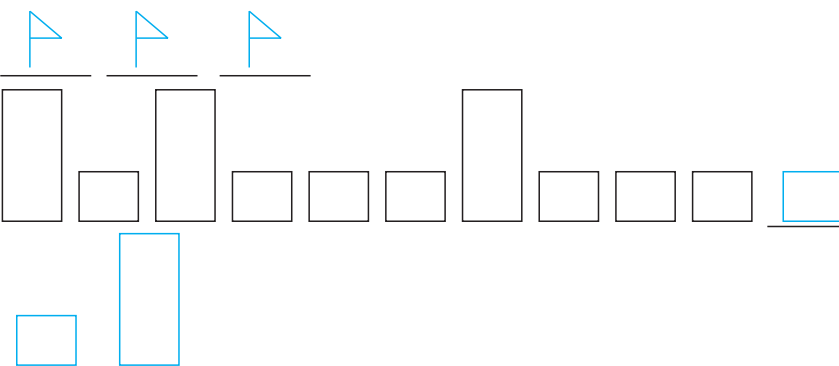
三、找规律,接着画。(每空1分,共21分)

1. 

2. 

3. 

4. 

5. 


四、找规律填数。(每空1分,共19分)


1. 1 3 5 7 9 11 13 15

2. 4 8 12 16 20 24 28 32 36

3. 80 75 70 65 60 55 50

4. 2 5 8 11 14 17 20 23

5. 

6. 

五、做一做。(共44分)

1. (8分)按规律填数,再计算。

$$8+8+8=24$$

$$24-8-8-8=0$$

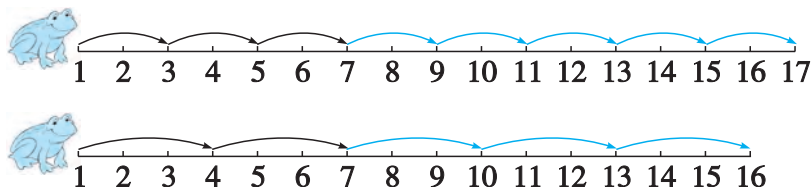
$$10+10+10=30$$

$$30-10-10-10=0$$

$$20+20+20=60$$

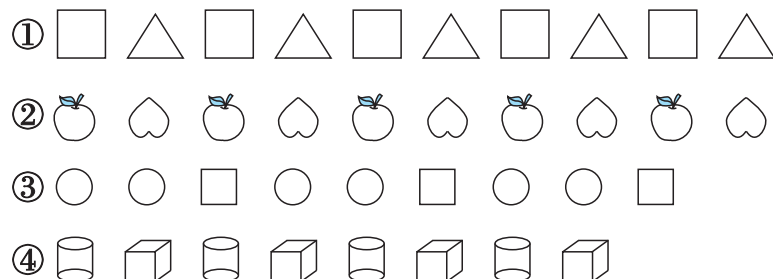
$$60-20-20-20=0$$

2. (8分) 按规律接着画。



3. (8分) 选一选, 填序号。

(1) 下面(③)的规律与其他几行不同。



(2) 下面(③)的规律与其他几行不同。

- ① 1 3 5 7 9 11 13 15  
② 30 32 34 36 38 40 42  
③ 5 10 15 20 25 30 35 40  
④ 17 19 21 23 25 27 29 31

4. (8分) 下面各题中都有一个数不符合规律, 把它圈起来并改正。

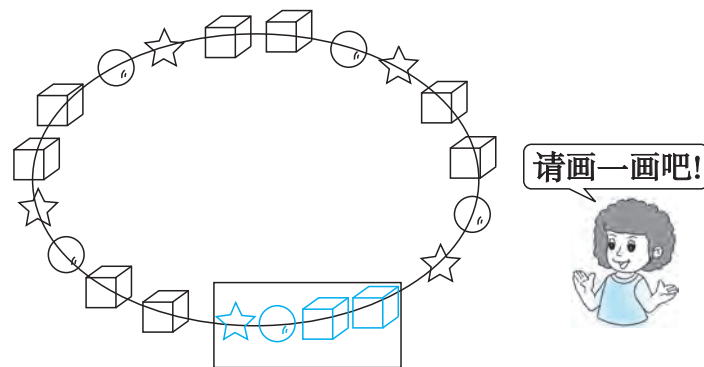
(1) 1 4 7 10 ①5 16 19 13

(2) 11 22 33 44 ⑤6 66 77 55

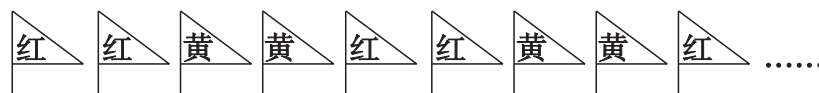
(3) 2 6 10 14 ②0 22 26 18

(4) ⑥ 10 15 20 25 30 35 5

5. (6分) 小敏的手链缺了4颗珠子, 是哪4颗?



6. (6分) 你知道第19面是什么颜色的吗?



黄色

六、试一试, 你会接着往下画吗? (共5分)

